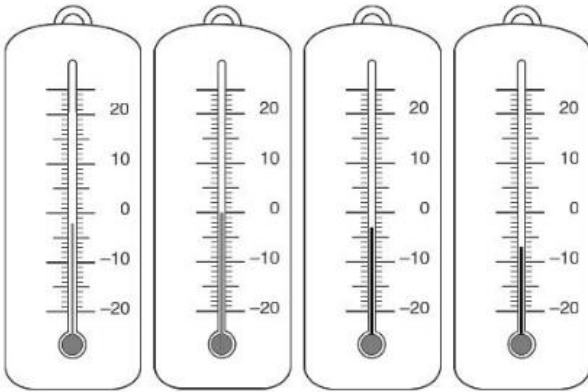




1 Noteer de temperatuur of kleur de thermometer in. 14



-2°C **0°C** **-3°C** **-7°C**

2 Vul aan. 2a



$\frac{3}{5}$ van de noten is grijs.

$\frac{2}{5}$ van de noten is wit.



$\frac{6}{7}$ van de noten is grijs.

$\frac{1}{7}$ van de noten is wit.

3 Vul aan. 2b



$\frac{1}{4}$ van 12 is **.3..**

$\frac{1}{5}$ van 25 is **.5..**

$\frac{1}{10}$ van 50 is **.5..**

$\frac{2}{4}$ van 12 is **.6..**

$\frac{1}{3}$ van 30 is **.10.**

$\frac{7}{10}$ van 50 is **35.**

$\frac{3}{4}$ van 12 is **.9..**

$\frac{1}{4}$ van 24 is **.6..**

$\frac{1}{7}$ van 28 is **.4..**

$\frac{1}{8}$ van 72 is **.9..**

$\frac{5}{7}$ van 28 is **20.**

$\frac{2}{3}$ van 12 is **.8..**

$\frac{2}{5}$ van 25 is **.10.**

$\frac{4}{5}$ van 20 is **.16.**

$\frac{3}{10}$ van 100 is **30.**

$\frac{5}{6}$ van 12 is **.10.**

$\frac{3}{8}$ van 16 is **.6..**

$\frac{2}{7}$ van 14 is **.4..**

$\frac{2}{9}$ van 45 is **10.**

$\frac{2}{7}$ van 70 is **20.**

$\frac{1}{4}$ van 40 is **10.**



1 Een muzikale mix 3, 6a,b

82 + 25 = **107.**
73 - 52 = **21..**
47 + 37 = **84..**
90 - 26 = **64..**



458 - 99 = **359.**
487 + 199 = **686.**
758 - 199 = **559.**
258 + 399 = **657.**



27 + 58 + 13 = **98..**
184 + 478 + 222 = **884.**
25 + 482 + 75 + 18 =
..... **600.....**

420 : 6 = **70..**
810 : 9 = **90..**
280 : 4 = **70..**
450 : 9 = **50..**

720 : 6 = **120**
900 : 2 = **450**
560 : 4 = **140**
650 : 5 = **130**



2 Cijfer je mee?

a Optellen en aftrekken gaat al vlot.

7,8



$485 + 274 + 186 = \mathbf{945}.$
ik schat: $\mathbf{500 + 300 + 200 = 1000}$

$582 - 357 = \mathbf{225}.$
ik schat: $\mathbf{600 - 400 = 200}$

$753 - 457 = \mathbf{296}.$
$\approx \mathbf{800 - 500 = 300}$

2	1	
4	8	5
2	7	4
1	8	6
+		
9	4	5

	7	12
5	8	2
3	5	7
-		
2	2	5

6	14	13
7	5	3
4	5	7
-		
2	9	6

$705 - 218 = \mathbf{487}.$
ik schat: $\mathbf{700 - 200 = 500}$

$812 - 218 = \mathbf{594}.$
ik schat: $\mathbf{800 - 200 = 600}$

$604 - 486 = \mathbf{118}$
$\approx \mathbf{600 - 500 = 100}$

	9	
6	10	15
7	0	5
2	1	8
-		
4	8	7

7	10	12
8	1	2
2	1	8
-		
5	9	4

	9	
5	10	14
6	0	4
4	8	6
-		
1	1	8

b Vermenigvuldigen is nieuw. 9



$2 \times 346 = \mathbf{692}.$
ik schat: $\mathbf{2 \times 300 = 600}$

$6 \times 141 = \mathbf{846}.$
ik schat: $\mathbf{6 \times 100 = 600}$

3	4	6
		2
x		
6	9	2

1/

1	4	1
		6
x		
8	4	6

2/

$5 \times 153 = \mathbf{765}.$
ik schat: $\mathbf{5 \times 200 = 1.000}$

$4 \times 207 = \mathbf{828}.$
ik schat: $\mathbf{4 \times 200 = 800}$

1	5	3
		5
x		
7	6	5

1/2/

2	0	7
		4
x		
8	2	8

2/



$5 \times 184 = \dots 920.$

ik schat: $\dots 5 \times 200 = 1.000 \dots$

$$\begin{array}{r} 184 \\ \times 5 \\ \hline 920 \end{array}$$

$3 \times 294 = 882..$

ik schat: $\dots 3 \times 300 = 900 \dots$

$$\begin{array}{r} 294 \\ \times 3 \\ \hline 882 \end{array}$$

MMR

1 Kassa, kassa ...

15

a Hoeveel halen de straatmuzikanten op?

€ ..8,67..

€ ..10,13.

b Hoeveel krijg je terug?

Je moet ... betalen.	Je geeft ...	Je krijgt ... terug.
€ 8,50	€ 10	..1.. euro 50 . cent
€ 4,75	€ 5	..0.. euro 25 . cent
€ 9,99	€ 10	..0.. euro 1 ... cent
€ 3,80	€ 5	..1.. euro 20 . cent
▲ € 0,70	€ 2	..1.. euro 30 . cent
€ 0,35	€ 1	..0.. euro 65 . cent
€ 17,25	€ 20	..2.. euro 75 . cent


2 Kloklezen

17d

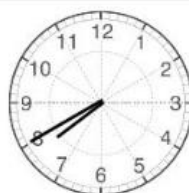
a Noteer hoe laat het is en vul de klok aan.

Het is na de middag.

...5 voor 5.....



16:55



...20 voor 8.....

19:40



b Vul de digitale klok aan.



Het is voor de middag.

7:57



Het is na de middag.

20:03

3 Lengtematen

11

a Kruis aan wat het best past.

De hoogte van een deur

- 2 dm
- 1 m
- 2 m
- 3 m

In 1 uur kan ik ... wandelen.

- 1 km
- 2 km
- 5 km
- 20 km

De breedte van mijn duim

- 1 cm
- 3 cm
- 1 dm
- 10 dm

De lengte van een gewone auto

- 200 cm
- 2 m
- 4 m
- 10 m

b Vul aan.

1 m = **100** cm
 1 dm = **10** cm
 1 m = **10** dm
 1 km = **1.000** m

150 cm = **1** m **50** cm
 2 dm = **20** cm
 2 m 20 cm = **220** cm
 50 cm = **5** dm
 5 km is **5** keer 1 000 m



320 cm = **3** m **20** cm
 7 dm = **70** cm
 1 m 5 cm = **105** cm
 90 cm = **9** dm
 een vierde kilometer is **250** m

MK

Het vierkant

24

a Onderzoek het vierkant.



Wat weet je over de hoeken?

Er zijn 4 rechte hoeken.

Wat weet je over de lengte van de zijden?

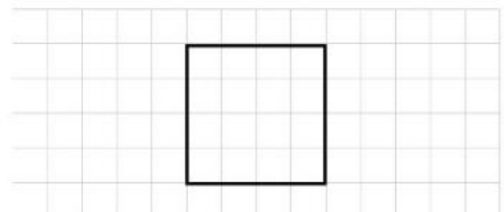
Alle zijden zijn even lang.

Wat weet je nog over de zijden?

De overstaande zijden zijn evenwijdig.

b Teken wat gevraagd wordt.

Teken een vierkant met zijde 2 cm.



Teken een vierkant waarvan dit de zijde is.

