

1

Welk tiental ligt er juist voor? Juist na? Vul in.



Welk tiental ligt er het dichtst bij? Kleur.



20 **21** 30

50 **59** 60

60 **66** 70

40 **41** 50

10 **19** 20

70 **74** 80

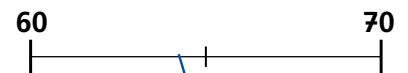
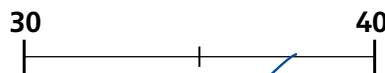
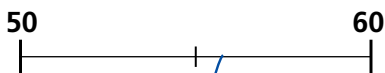
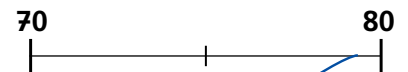
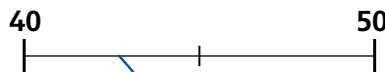
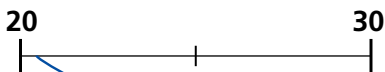
60 **62** 70

30 **38** 40

90 **97** 100

2

Waar ongeveer? Maak vast.



3

Doe bij of neem weg.



$$39 + 1 = 40$$

$$41 - 1 = 40$$

$$45 + 5 = 50$$

$$58 + 2 = 60$$

$$63 - 3 = 60$$

$$75 - 5 = 70$$

$$79 + 1 = 80$$

$$82 - 2 = 80$$

$$17 + 3 = 20$$

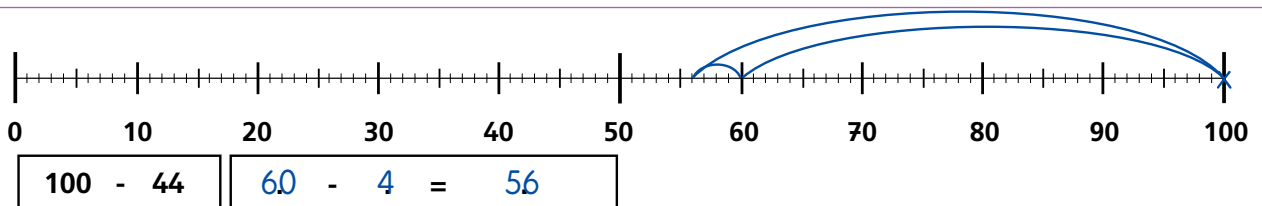
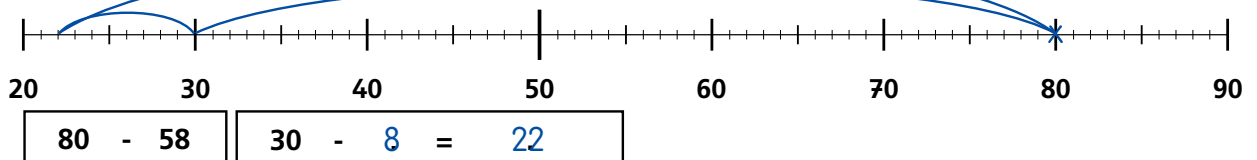
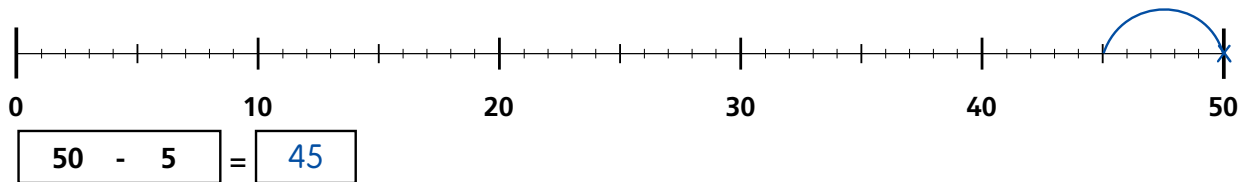
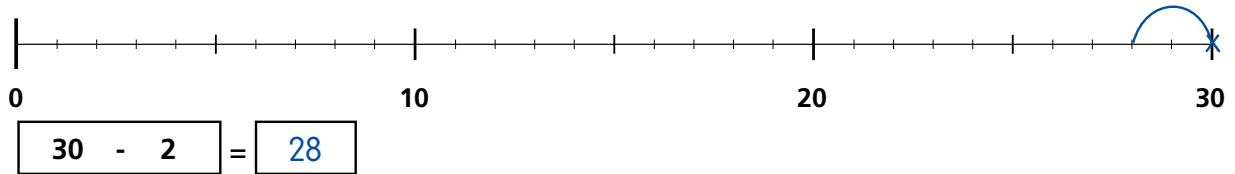
$$26 + 4 = 30$$

$$54 - 4 = 50$$

$$94 - 4 = 90$$

4

Tekenen en vul in.



5

Vul in.



$23 + 5 = 28$

$7 + 2 = 9$

$50 + 6 = 56$

$3 + 40 = 43$

$8 + 5 = 13$

$10 + 20 = 30$

$14 + 6 = 20$

$48 + 40 = 88$

$50 + 12 = 62$

$71 + 8 = 79$

$8 - 5 = 3$

$18 - 5 = 13$

$37 - 10 = 27$

$15 - 7 = 8$

$40 - 30 = 10$

$60 - 25 = 35$

$90 - 61 = 29$

$12 - 5 = 7$

$74 - 2 = 72$

$29 - 6 = 23$

$30 + 7 = 37$

$14 + 50 = 64$

$100 - 16 = 84$

$53 - 40 = 13$

$81 - 1 = 80$

$9 + 6 = 15$

$62 + 5 = 67$

$24 + 4 = 28$

$60 + 30 = 90$

$87 - 7 = 80$

6 Omkring en vul in.

$3 \times 2 = 2 + 2 + 2 = 6$

7 Vul in.

6 sprongen van 2. Hoeveel keer 2 in 12 ?

$6 \times 2 = 12$ $12 : 2 = 6$

7 sprongen van 10. Hoeveel keer 10 in 70 ?

$7 \times 10 = 70$ $70 : 10 = 7$

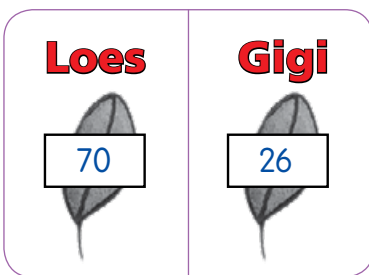
8 Verdeel eerlijk onder 2 kinderen. Omkring en vul in.

Ik verdeel	in	leder krijgt	over
11	<u> 2 </u> gelijke delen.	<u> 5 </u>	<u> 1 </u>

9 Verdeel eerlijk onder 3 kinderen. Kleur en vul in.

Ik verdeel	in	leder krijgt	over
20	<u> 3 </u> gelijke delen.	<u> 6 </u>	<u> 2 </u>

10 Hoeveel samen? Vul in.



bewerking:

$$70 + 26 = 96$$

antwoord:

Samen eten we blaadjes.

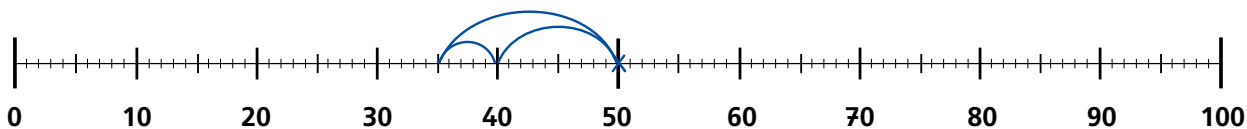
11 Teken en vul in.



Hoeveel bananen blijven over?

bewerking:

$$50 - 15 = 35$$



antwoord:

Er blijven bananen over.

12 Teken en vul in.



Hoeveel koekjes krijgt Dombo minder dan Jumbo?



bewerking:

$$40 - 33 = 7$$

antwoord:

Dombo krijgt er minder.

1

Hoe laat is het? Vul in



Het is 6 uur 55.



Het is 7 uur 35.



Het is 4 uur 5.




Het is 2 uur 15.

2


Meet en schrijf.




1 cm



15 cm



7 cm



11 cm

3


Schat en kleur.



Mijn voet is langer dan 1 m.

WAAR


NIET WAAR



Mijn potlood is korter dan 1 cm.

WAAR

NIET WAAR



Mijn schaar is korter dan 1 m.

WAAR

NIET WAAR

4

Zoek telkens 3 verschillende manieren om te betalen. Kleur.



5

Betaal met zo weinig mogelijk munten of biljetten. Vul in en kleur.



<p><input type="text" value="5"/> euro en <input type="text" value="50"/> eurocent.</p>	
<p><input type="text" value="13"/> euro en <input type="text" value="45"/> eurocent.</p>	

Mooie, ronde getallen



1  Lees de rekenzin. Vul het getal in.



2  Vul de getallen 10, 20, 30 en 40 in.

Spelregels

- In elke rij komt elk getal juist een keer voor.
- In elke kolom komt elk getal juist een keer voor.
- In elk blok (vierkant) komt elk getal juist een keer voor.

10	40	20	30
20	30	40	10
40	10	30	20
30	20	10	40

Het derde getal van de tweede rij kan 20 of 40 zijn. Maar in die kolom hebben we al 20, dus dat kan niet. Het moet dus 40 zijn!

20	40	30	10
10	30	40	20
40	20	10	30
30	10	20	40

40	30	10	20
20	10	30	40
30	20	40	10
10	40	20	30

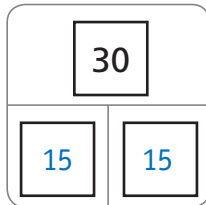
30	10	40	20
40	20	30	10
10	40	20	30
20	30	10	40

Jij en ik ... ieder de helft!



1  **Neem de helft. Vul in.**

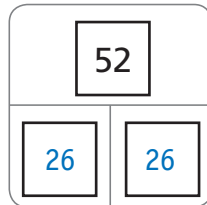
Ik splits 30 in 20 en 10 .



De helft van 30 is 15 .

15 is de helft van 30.

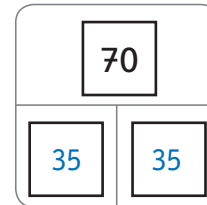
Ik splits 52 in 40 en 12 .



De helft van 52 is 26 .

26 is de helft van 52.

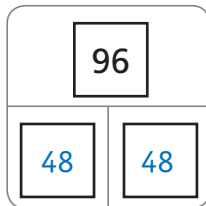
Ik splits 70 in 60 en 10 .



De helft van 70 is 35 .

35 is de helft van 70.

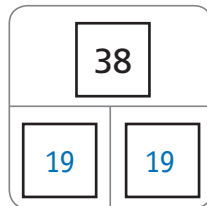
Ik splits 96 in 80 en 16 .



De helft van 96 is 48 .

48 is de helft van 96.

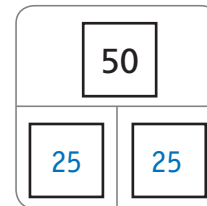
Ik splits 38 in 20 en 18 .



De helft van 38 is 19 .

19 is de helft van 38.

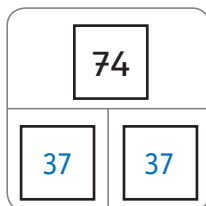
Ik splits 50 in 40 en 10 .



De helft van 50 is 25 .

25 is de helft van 50.

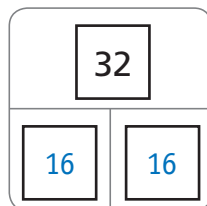
Ik splits 74 in 60 en 14 .



De helft van 74 is 37 .

37 is de helft van 74.

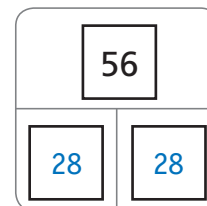
Ik splits 32 in 20 en 12 .



De helft van 32 is 16 .

16 is de helft van 32.

Ik splits 56 in 40 en 16 .

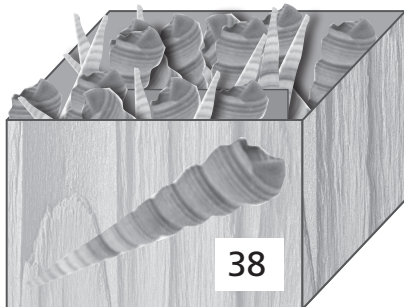


De helft van 56 is 28 .

28 is de helft van 56.



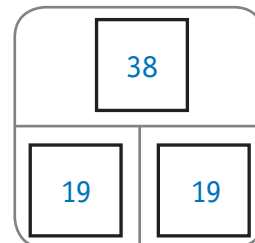
②  Lees en vul in.



Ik heb een doos met schelpen.
Ik maak een kunstwerkje met de helft van mijn schelpen.

Ik splits 38 in 20 en 18.


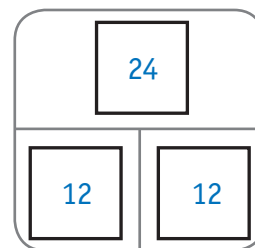
Ik gebruik schelpen.



Kinderen betalen de helft van de prijs.

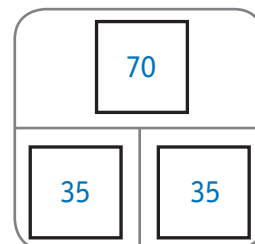
Ik splits 24 in 20 en 4.

Een kind betaalt euro.



Ik eet met mijn vriendjes de helft op!

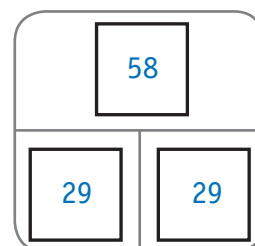
Er blijven aardbeien over.



Ine heeft al 58 euro gespaard.
Haar broer heeft de helft gespaard.
Hoeveel heeft haar broer gespaard?

Ik splits 58 in 40 en 18.

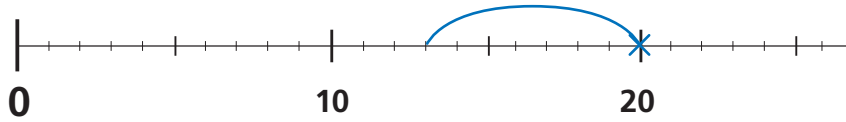
Haar broer heeft euro gespaard.



Doe maar weg!



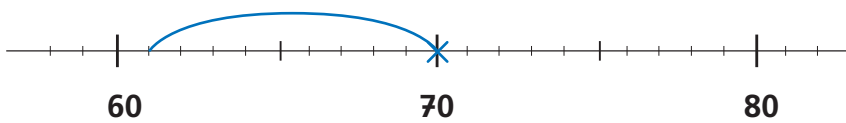
1 **Teken en vul in.**



$$20 - 7 = 13$$

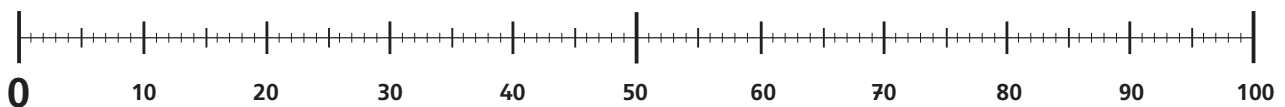


$$50 - 4 = 46$$



$$70 - 9 = 61$$

2 **Vul in.**



-	2	3	4	5
↙				
30	28	27	26	25
60	58	57	56	55

-	5	8	6	9
↙				
40	35	32	34	31
90	85	82	84	81

3 **Vul het verschil in.**

$$30 - 5 = 25$$

$$20 - 3 = 17$$

$$40 - 4 = 36$$

$$50 - 7 = 43$$

$$60 - 8 = 52$$

$$60 - 7 = 53$$

$$20 - 2 = 18$$

$$80 - 4 = 76$$

$$90 - 6 = 84$$

$$70 - 5 = 65$$

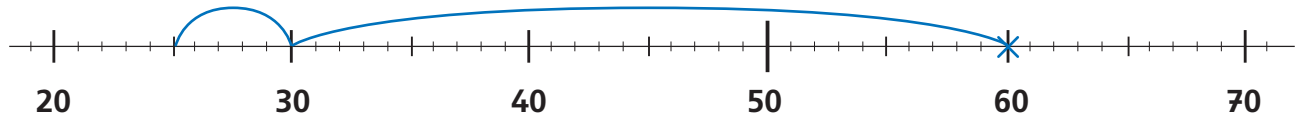
$$70 - 2 = 68$$

$$80 - 9 = 71$$

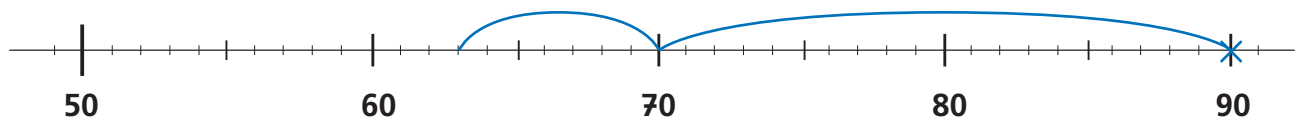
4  Teken en vul in.



$$30 - 12 = 20 - 2 = 18$$



$$60 - 35 = 30 - 5 = 25$$



$$90 - 27 = 70 - 7 = 63$$

5  Vul het verschil in.



$$30 - 12 = 20 - 2 = 18$$

$$70 - 54 = 20 - 4 = 16$$

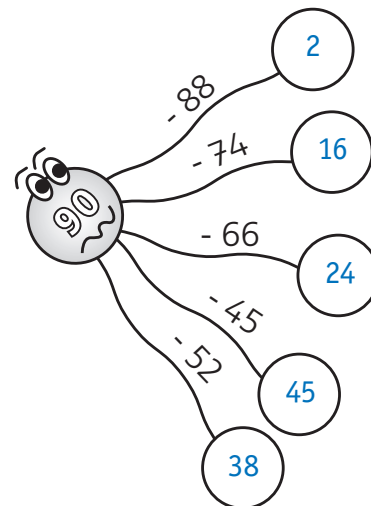
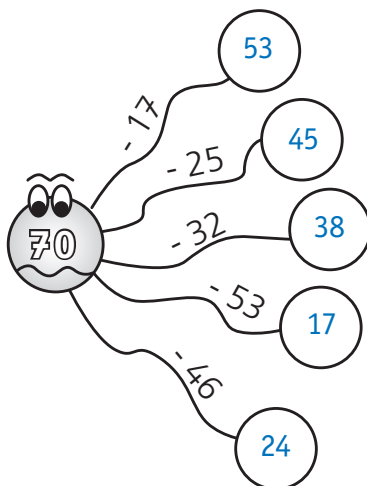
$$40 - 26 = 20 - 6 = 14$$

$$80 - 39 = 50 - 9 = 41$$

$$50 - 48 = 10 - 8 = 2$$

$$90 - 61 = 30 - 1 = 29$$

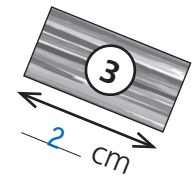
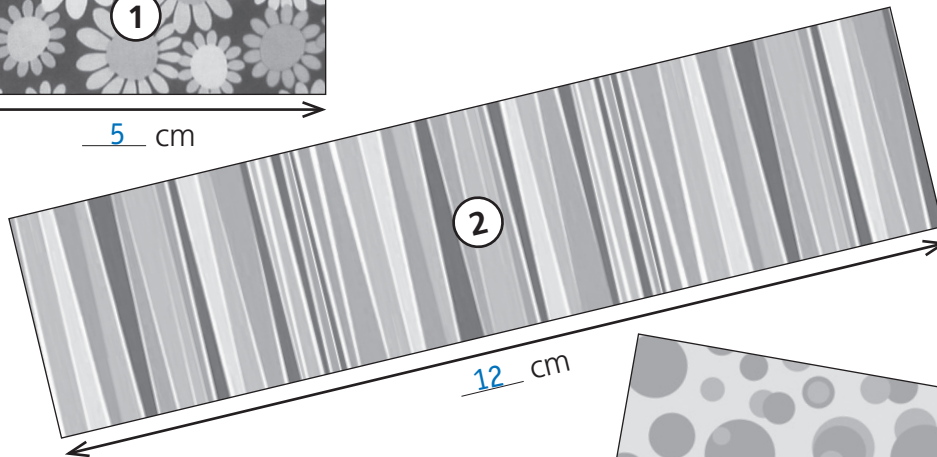
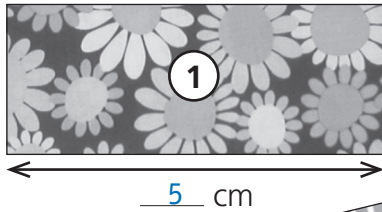
6  Vul in.



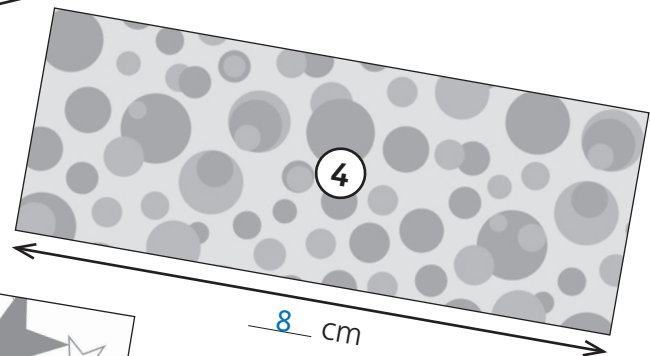
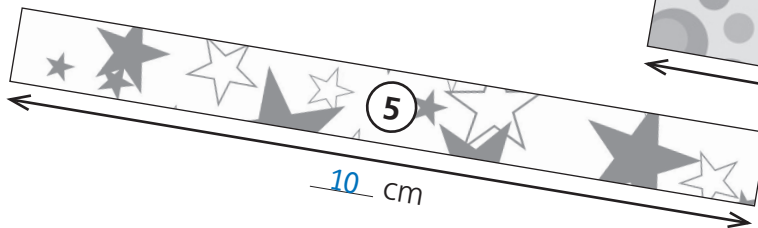
De centimeter



1  **Hoe lang is elke strook? Meet en vul in.**



Gebruik je lat!



2  **Schat en kleur.**



Mijn potlood is korter dan 1 cm.

waar

niet waar



Het bord is breder dan 10 m.

waar

niet waar



Mijn werkboek is langer dan 5 cm.

waar

niet waar